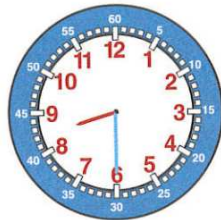


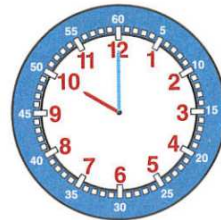
Voici l'emploi du temps de Nina le lundi. Complète les phrases et place les aiguilles.

8 h 30	Français
10 h 10 h 15	
	Mathématiques
11 h 30	
13 h	Arts plastiques
14 h 15 14 h 30	
	Sciences
16 h	

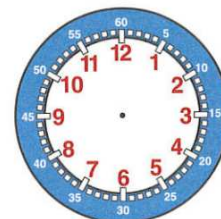
**Matin**



À ....., Nina  
entre en classe.

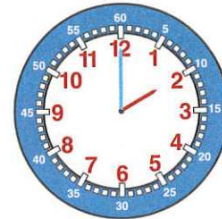


À ....., elle .....

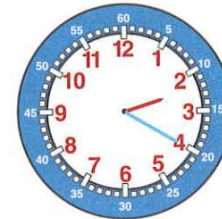


À 11h, elle .....

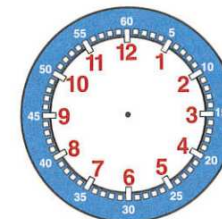
**Après-midi**



À ....., elle .....



À ....., elle .....



À 15h, elle .....



**Problèmes** À résoudre sur le cahier

Réponds (tu peux faire un schéma, écrire une égalité ou expliquer ta solution).

1. Dans le réfrigérateur d'une cantine, il y a 30 lots de 4 yaourts.

Combien de yaourts y a-t-il dans ce réfrigérateur ?

2. Kamel et Julien se partagent 54 images en parts égales.

Combien d'images chaque enfant aura-t-il ?